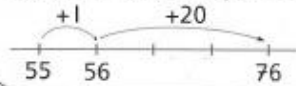


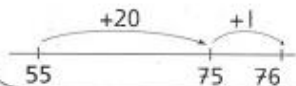
Kies zelf de manier die je handig vindt
 $55 + 21 =$



Ik doe er eerst 1 bij en dan 20.



Het kan ook anders:
 ik doe er eerst 20 bij en dan 1.



Reken uit

$20 + 30 + 4 =$ _____ $9 + 10 + 61 =$ _____

$7 + 40 + 20 =$ _____ $42 + 4 + 40 =$ _____

$20 + 8 + 70 =$ _____ $20 + 43 + 7 =$ _____

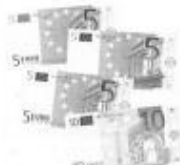
$20 + 50 + 9 =$ _____ $3 + 51 + 40 =$ _____

$7 + 40 + 30 =$ _____ $35 + 4 + 30 =$ _____

Hoeveel euro ligt er bij elkaar?



_____ euro



_____ euro



_____ euro



_____ euro

Reken uit

$17 + 50 =$ _____

$38 + 20 =$ _____

$60 + 33 =$ _____

$40 + 28 =$ _____

$70 + 15 =$ _____

Een sommenspel

De kaartjes van een sommenspel zijn door elkaar geraakt.
 Leg de kaartjes weer in de goede volgorde.

$\boxed{35} \quad \boxed{66} \quad \boxed{30} \quad \boxed{1} \quad \boxed{+} \quad \boxed{+} \quad \boxed{=}$

wordt

$\boxed{35} \quad \boxed{+} \quad \boxed{} \quad \boxed{} \quad \boxed{} \quad \boxed{} \quad \boxed{}$

Doe dit ook met:

$\boxed{77} \quad \boxed{25} \quad \boxed{7} \quad \boxed{45} \quad \boxed{+} \quad \boxed{+} \quad \boxed{=}$

wordt

$\boxed{} \quad \boxed{} \quad \boxed{} \quad \boxed{} \quad \boxed{} \quad \boxed{} \quad \boxed{}$

