


Reken tijger

groep 4 boekje A



€ = 2

4 : 7 x 0

2 9 + % 6 8

Ben **jij** er ook één?!

↓
..... naam

Maak de getallen



Maak de getallen. Gebruik alle getallen één keer.

Maak 8
Gebruik: 5, 3, 6, 4, + en -

			=	
			=	
			=	8

Maak 8
Gebruik: 5, 7, 4, 6, + en -

			=	
			=	
			=	8

Maak 12
Gebruik: 7, 9, 8, 4, + en -

			=	
			=	
			=	12

Maak 12
Gebruik: 6, 3, 4, 5, + en -

			=	
			=	
			=	12

Maak 5
Gebruik: 4, 2, 1, 3, + en - en x

			=	
			=	
			=	5

Maak 12
Gebruik: 6, 3, 4, 2, + en - en x

			=	
			=	
			=	12

Maak 12
Gebruik: 6, 5, 9, 3, + en - en x

			=	
			=	
			=	12

Maak 12
Gebruik: 4, 2, 3, 5, + en - en x

			=	
			=	
			=	12

Maak 24
Gebruik: 9, 3, 8, 4, + en - en x

			=	
			=	
			=	24

Maak nu zelf opdrachten met +, - en x.
Laat een andere Rekentijger jouw opdrachten maken.

Gebruik: _____

			=	
			=	
			=	

Gebruik: _____

			=	
			=	
			=	



Kleursudoku



Zet de letters op de goede plaats.
In elke rij en elke kolom komt elke letter één keer voor.

rij →

kolom ↓

B	L	A	U	W
A				
		U		L
L				
		W		B



Maak de kleursudoku's.
Kleur de goede kleurnamen.

E			O	
				G
R		O		
	R		G	N
	E	N		

	B			
		I		
R			U	
				N
N		B		I

	A				O
J		O			
		N		J	
	J				
	E			N	
N					R

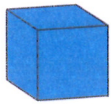
Maak zelf een sudoku.
Schrijf een woord van 5 letters in het linker vierkant.
Verdeel de letters over de andere kolommen en rijen.
Elke letter staat één keer in elke rij en in elke kolom.

Haal nu in je sudoku zo veel mogelijk letters weg.
Schrijf de letters die overblijven in het rechter vierkant.
Je moet het woord nog wel kunnen vinden!


Bouwen



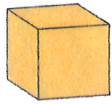
De stenen kosten:




€ 3,-



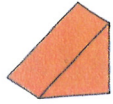
€ 4,-



€ 5,-




€ 6,-




€ 2,-






€ 7,-





Hoeveel euro kost elk gebouw?




€ 36,-



Hoeveel euro kost elke toren?




Teken zelf een toren of gebouw van € 14,-.




€ 14,-

Teken en kleur gebouwen van € 15,-. Teken er zoveel mogelijk.



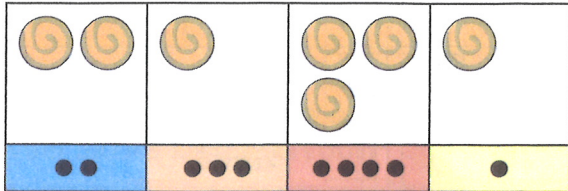
Sjoelen



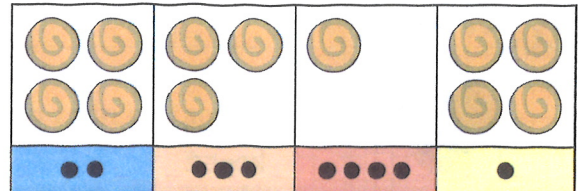
Op de poortjes staan de punten die je kunt halen.

In elk vak één steen: 20 punten!

Hoeveel punten?

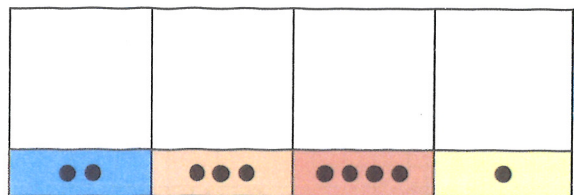
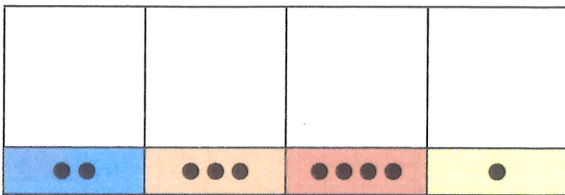


_____ punten



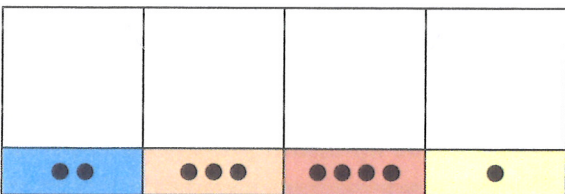
_____ punten

Teken steeds 9 punten met 5 stenen.

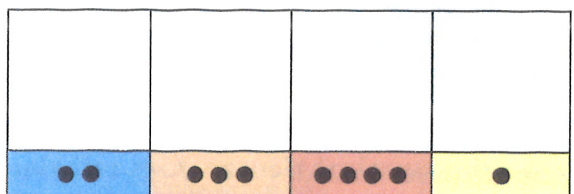


Teken de stenen. Er zijn meer oplossingen.

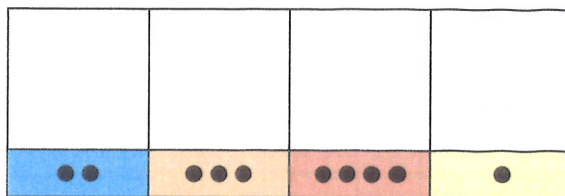
10 punten met 5 stenen



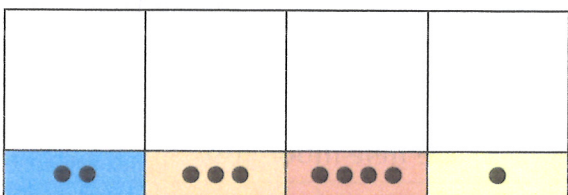
21 punten met 6 stenen



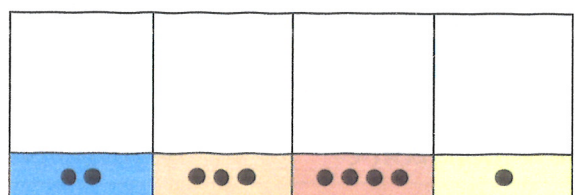
9 punten met 4 stenen



27 punten met 8 stenen



24 punten met 5 stenen

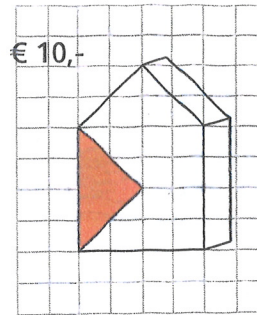


Schilderen



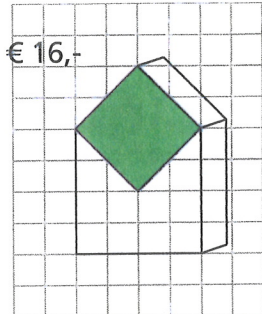
Wat kost de hele muur?

Bram schildert de voorkant van het huis.
Hij heeft al een stuk gedaan. Dat stuk kost € 10,-.

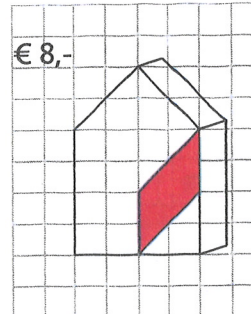


De hele muur kost € _____.

Wat kost de hele muur?



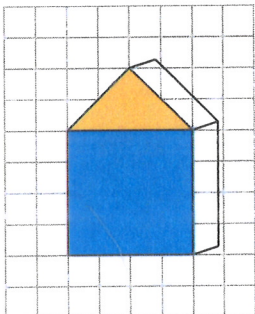
Deze muur kost € _____.



Deze muur kost € _____.

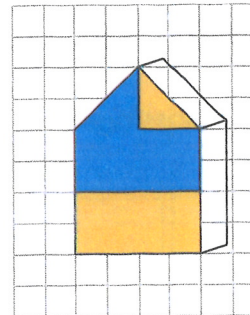
Wat kost het gele stuk? En wat kost het blauwe stuk?

De hele muur kost € 50,-.



Geel kost € _____.

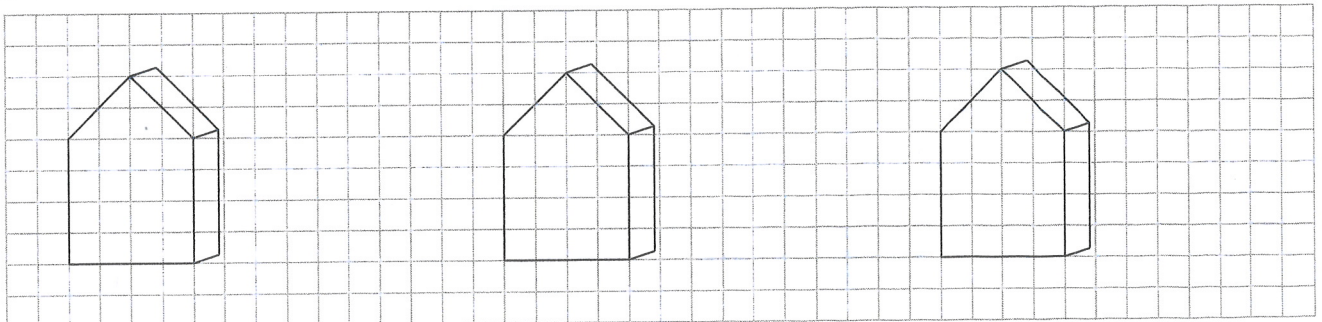
Blauw kost € _____.



Geel kost € _____.

Blauw kost € _____.

Schilder de muur in 2 kleuren. Kies zelf kleur 1 en kleur 2.



Kleur 1 is en kost € 10,-. Kleur 1 is en kost € 18,-. Kleur 1 is en kost € 24,-.

Kleur 2 is en kost € 15,-. Kleur 2 is en kost € 12,-. Kleur 2 is en kost € 6,-.

De hele muur kost € _____. De hele muur kost € _____. De hele muur kost € _____.

