
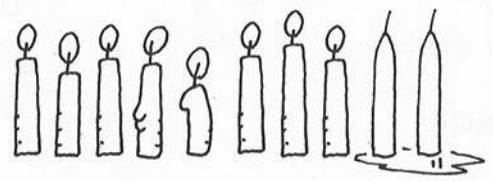


hoeveel kaarsen zijn er aan? hoeveel zijn er uit?


___ aan ___ uit




___ aan ___ uit



___ aan ___ uit



___ aan ___ uit



grijsje is een ezel.
hij kent sommen waar 5 uitkomt.
bedenk sommen voor grijsje

reken uit




5 + 2 = ___

10 - 3 = ___

5 + 4 = ___

10 - 5 = ___

5 + 5 = ___



10 - 5 = 5

9 _____

8 _____


7 _____

6 _____

hoeveel vogels zijn er?



___ vogels



___ vogels




___ vogels



___ vogels



___ vogels



___ vogels