

BLOK 5**EXTRA****1 2****DOEL 4**

- Je oefent bedragen tot en met 100 euro te herkennen en samen te stellen met zo min mogelijk munten en biljetten.

HULP

67 euro

**1****Hoeveel euro?**

..... euro



..... euro



..... euro



..... euro

2**Maak het bedrag.**

Hoeveel moet er nog bij?



43 euro



..... euro



..... euro



..... euro




..... euro

GA VERDER →

3

Is het met zo min mogelijk gedaan?

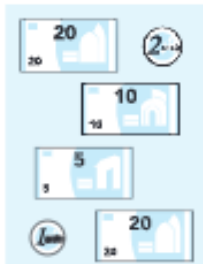


4

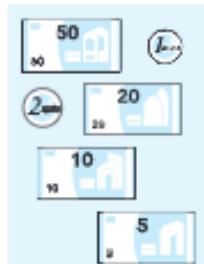
Maak het bedrag.

Doe het met zo min mogelijk munten en biljetten.

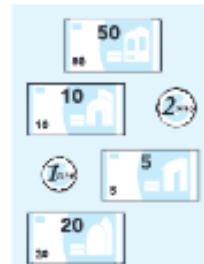
32 euro



66 euro



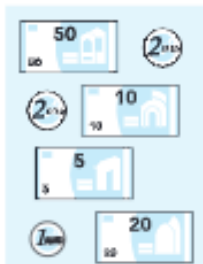
83 euro



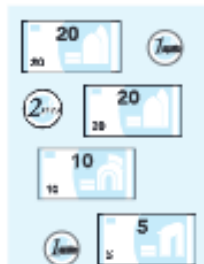
45 euro



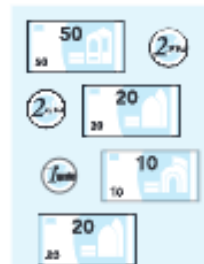
59 euro



47 euro



94 euro



89 euro



KLAAR!