






## 8. Welke 2 getallen horen erbij?

Kleur.

				
<input type="text" value="10"/> <input type="text" value="2"/> <input type="text" value="9"/>	<input type="text" value="12"/> <input type="text" value="2"/> <input type="text" value="1"/>	<input type="text" value="4"/> <input type="text" value="10"/> <input type="text" value="5"/>	<input type="text" value="2"/> <input type="text" value="1"/> <input type="text" value="16"/>	<input type="text" value="10"/> <input type="text" value="8"/> <input type="text" value="9"/>

## 9. Welke som hoort erbij?

Maak vast.

<input type="text" value="11"/>	•	<input type="text" value="10 + 3"/>	<input type="text" value="11"/>	•	<input type="text" value="20 - 2"/>
<input type="text" value="12"/>	•	<input type="text" value="12 + 5"/>	<input type="text" value="12"/>	•	<input type="text" value="19 - 3"/>
<input type="text" value="13"/>	•	<input type="text" value="12 + 7"/>	<input type="text" value="14"/>	•	<input type="text" value="18 - 7"/>
<input type="text" value="15"/>	•	<input type="text" value="10 + 5"/>	<input type="text" value="16"/>	•	<input type="text" value="19 - 7"/>
<input type="text" value="17"/>	•	<input type="text" value="10 + 1"/>	<input type="text" value="18"/>	•	<input type="text" value="20 - 0"/>
<input type="text" value="19"/>	•	<input type="text" value="11 + 1"/>	<input type="text" value="20"/>	•	<input type="text" value="18 - 4"/>

### 10. Welke 2 getallen horen bij de sommen?

Omcirkel en vul in.

_____ + _____ = 11	10	2	1	12 - _____ = _____	11	1	2
_____ + _____ = 14	12	1	2	13 - _____ = _____	2	1	12
_____ + _____ = 15	14	1	2	16 - _____ = _____	13	2	3
_____ + _____ = 18	2	1	16	17 - _____ = _____	3	13	4
_____ + _____ = 20	1	18	2	19 - _____ = _____	2	1	17

### 11. Maak de juiste sommen met de getallen.

Vul in.

6	=	18	12	+
<input type="text"/>	<input type="text"/>	<input type="text"/>	<input type="text"/>	<input type="text"/>

14	5	=	-	19
<input type="text"/>	<input type="text"/>	<input type="text"/>	<input type="text"/>	<input type="text"/>

+	=	7	10	3
<input type="text"/>	<input type="text"/>	<input type="text"/>	<input type="text"/>	<input type="text"/>

9	-	=	2	11
<input type="text"/>	<input type="text"/>	<input type="text"/>	<input type="text"/>	<input type="text"/>

=	1	15	+	16
<input type="text"/>	<input type="text"/>	<input type="text"/>	<input type="text"/>	<input type="text"/>